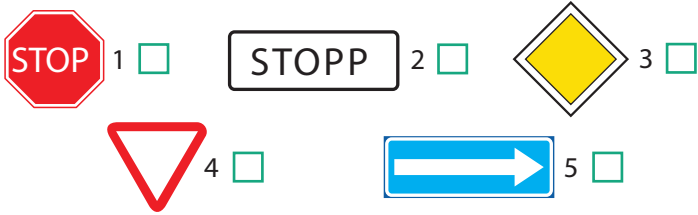


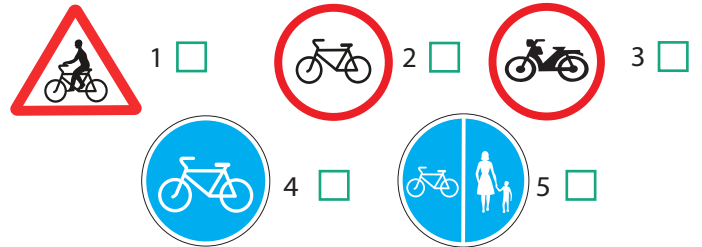
Nimi _____

Leia igale küsimusele 1 õige vastus ja märgi see ristikesega.


1 Milline liiklusmärk nõuab jalgratturilt kohustuslikku peatumist ristmiku ees?




6 Milline liiklusmärk keelab jalgratturil edasi sõita?



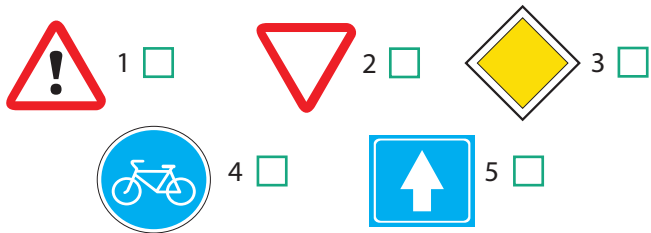
2 Milline liiklusmärk lubab jalgrattaga sõitu jätkata?



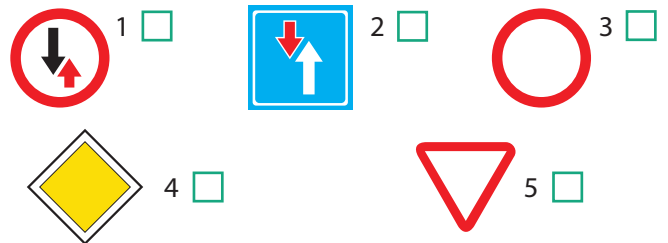
7 Milline liiklusmärk kohustab jalgratturit andma teed jalakäijale?



3 Milline liiklusmärk näitab, et jalgrattur sõidab peateel?



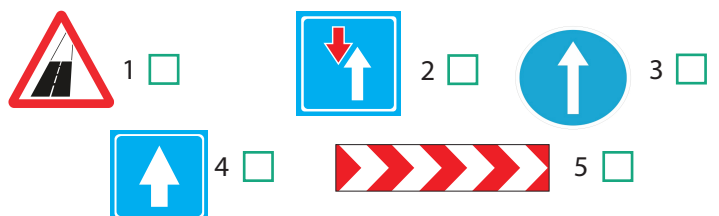
8 Milline liiklusmärk näitab, et jalgrattur sõidab kõrvalteel?



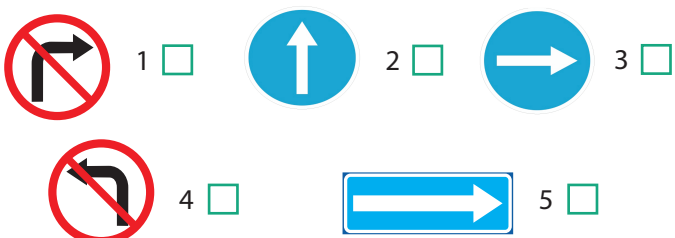
4 Milline liiklusmärk keelab jalgrattaga sõitu jätkata?



9 Milline liiklusmärk näitab, et jalgrattur sõidab ühesuunalisel teel?



5 Milline liiklusmärk kohustab jalgratturil ristmikul pöörama ainult paremale?



10 Milline liiklusmärk keelab vasakpöörde?

